


<b>DEPARTAMENT:</b>	Socials	<b>PROFESSOR/A:</b>	Carles Alemany
<b>MATÈRIA/UNITAT:</b>	GiH	<b>GRUP:</b>	3r
<b>DATA:</b>	17-10-2020	<b>CONVOCATÒRIA:</b>	1r trimestre
<b>ALUMNE/A:</b>			

## GEOGRAFIA

1. Assenyala les següents formes de relleu a la següent imatge: meandre, riu, serra, serralada, turó, depressió, altiplà, muntanya, vall, plana. Posa exemples de cadascun d'ells.





Exemples: Serralada litoral Catalana

---

---

---

---

---

---

---

---

**2. Assenyala en aquest mapa mut d'Europa els següents estats. A més, hauràs d'afegir les seves respectives capitals: Romania, Bulgària, Noruega, França, Bielorússia, Lituània, Letònia, Regne Unit, Polònia, Bèlgica, Països Baixos, Dinamarca, Hongria, Itàlia, Suïssa, Croàcia, Macedònia, Irlanda.**





### El sector primari en l'actualitat

L'alimentació és una de les necessitats bàsiques de l'ésser humà. Per això, obtindre els recursos necessaris per a alimentar-se ha sigut una prioritat al llarg dels segles, i l'eradicació de la fam al planeta constitueix un dels grans reptes actuals.

**El sector primari** comprèn les activitats que proporcionen recursos bàsics o primaris, és a dir, que s'obtenen directament de la natura. Aquestes activitats són l'agricultura, la ramaderia, la pesca i l'explotació forestal.

De totes aquestes, **l'agricultura** és la més important. El 47 % de la població mundial depèn de l'agricultura per a sobreviure. Als països en via de desenvolupament l'agricultura impulsa l'economia i molt pocs països desenvolupats han experimentat un creixement econòmic sense una revolució agrícola prèvia.

### La situació actual del sector primari

La població dedicada al sector primari representa el 40 % del total de la població activa mundial, un percentatge important però que està disminuint progressivament en favor dels altres sectors econòmics.

Encara que la productivitat del sector primari augmenta cada any, el seu pes econòmic disminueix respecte al que aporten els sectors secundari i terciari. L'any 2012, el sector agrari aportà el 3 % del PIB mundial.

Tot i així, hi ha importants diferències entre uns països i altres. Als països desenvolupats, el sector primari ocupa un percentatge reduït de la població activa, entre l'1 % i el 5 %. Malgrat això, té una productivitat alta gràcies a la mecanització i als avanços tècnics. Tanmateix, la contribució a la riquesa nacional és escassa, menys del 4 % del PIB (en alguns països, com el Japó o els Estats Units, menys de l'1,5 %).

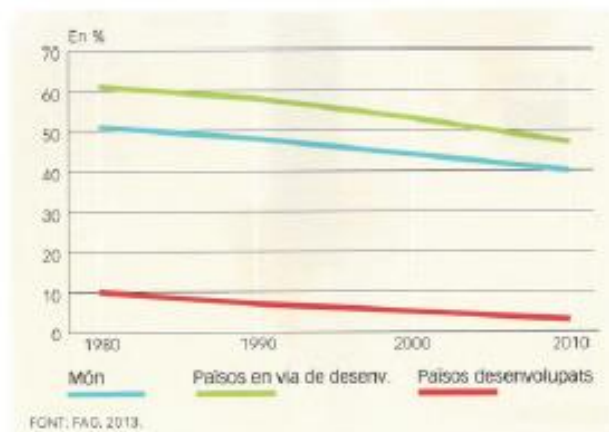
Als països en via de desenvolupament, aquest sector ocupa de mitjana la meitat de la població i aporta més del 10 % del PIB. Als estats més pobres, les activitats agràries arriben a ocupar el 80 % dels habitants i a aportar més del 24 % del PIB. La productivitat és, en canvi, baixa per l'ús de tècniques de cultiu tradicionals.

**4. Contesta les següents preguntes. Fes ús del text anterior.**

- Què és el sector primari?
- Quin percentatge de la població mundial depèn de l'agricultura per sobreviure? Quin percentatge es dedica a l'agricultura?
- Fes una breu síntesi de la situació de l'agricultura actualment.

**5. Interpreta el gràfic**

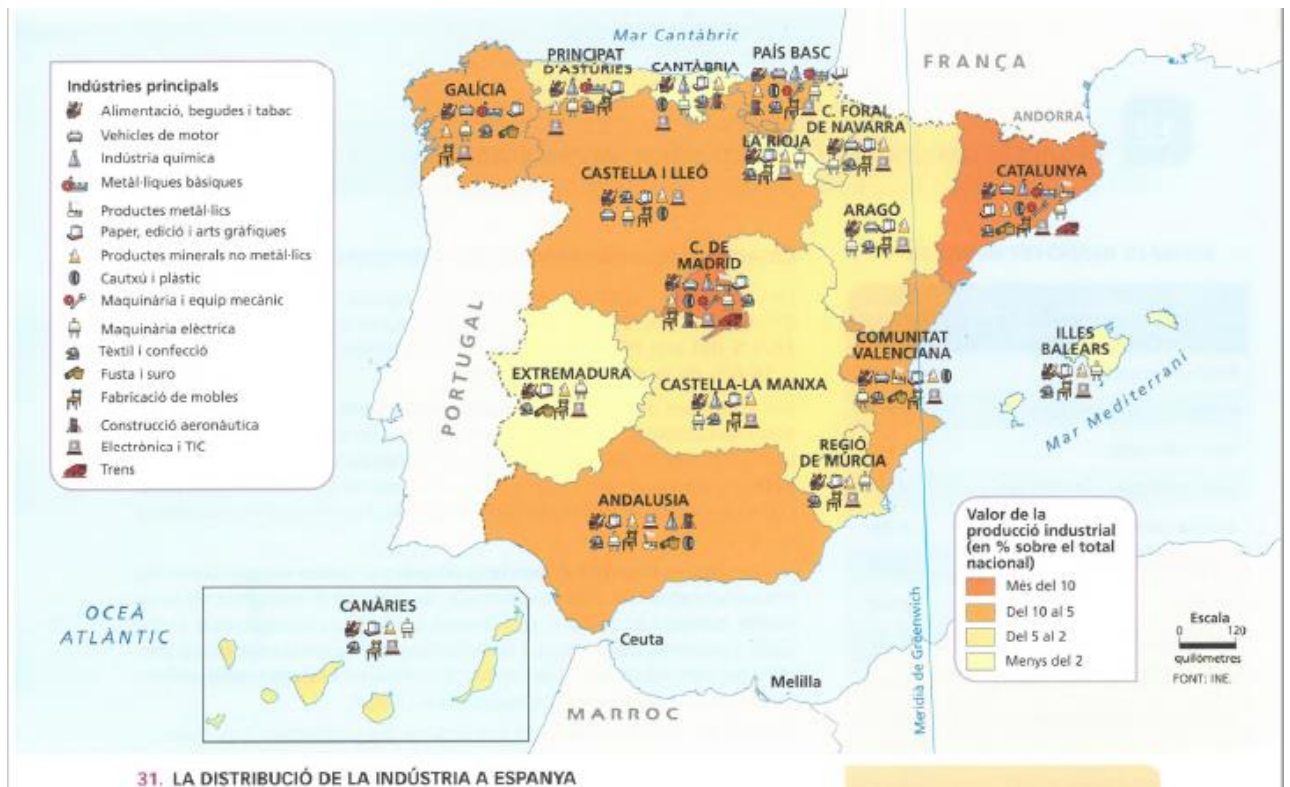
**1. POBLACIÓ OCUPADA EN EL SECTOR PRIMARI**



- Com ha evolucionat la població mundial ocupada en el sector primari?  
Raona-ho.

**5. Interpreta el mapa i contesta les següents preguntes:**

- En quines comunitats autònomes és més important l'activitat industrial?
- Quines branques industrials destaquen en cada comunitat?




---



---



---



---



---



---



**DOSSIER DE RECUPERACIÓ**

**PUNTUACIÓ:**

---

---

---

---

---

---

---

---

---

---

---

---

## HISTÒRIA

6. Localitza les següents civilitzacions precolombines: Asteques, Maies i inques



**7. Completa el mapa de la Península Ibèrica al segle XV: Regne de Navarra, Corona d'Aragó, Corona de Castella, Regne de Portugal, Regne de Granada**



**8. Llegeix el següent text i contesta les preguntes següents:**

Cristòfol Colom va néixer en 1451 a Gènova, una ciutat italiana. És sabut que en els primers anys de la seva vida ajudava al seu pare que va ser el teixidor. Quan tenia 14 anys va començar a navegar i quan als 22 anys va aparèixer a Portugal ja era un experimentat mariner. Va començar a viure i treballar a la ciutat de Lisboa. Una mica després Colón es va casar. El futur almirall va participar en molts viatges per la mar Mediterrània. També va viatjar a Anglaterra i Àfrica. Gràcies a aquests viatges Cristóbal Colón va rebre una experiència molt gran de mariner i geògraf.

En el segle XV els navegants van començar a buscar nous camins cap a Orient per a continuar comerciant amb els indis i altres pobles orientals perquè el camí a l'Índia era amenaçat. Els portuguesos que eren molt bons navegants, van decidir arribar a l'Índia donant la volta a les costes d' Àfrica.

Cristòfol Colom també volia trobar el nou i més curt camí cap a l'Índia. Estudiant el mapa de les mars, li va ocórrer la idea del viatge per l'oceà Atlàntic. Entre els factors que van fer possible l'històric viatge de Colom va ser el gran progrés en la geografia i navegació: la idea que el món tenia forma esfèrica, l'ús de brúixola, el millorament de les cartes de navegació i construcció de vaixells oceànics.





- .1. Quan i on va néixer Colom?
2. En quina família va néixer Colom?
3. En quina edat va començar la seva carrera del mariner?
4. Quan va aparèixer Colom a Portugal?
5. On va rebre Colom la seva experiència de mariner i geògraf?
6. Per què en el segle XV es buscaven els nous camins cap a Orient?
7. Com volien arribar a l'Índia els portuguesos?
8. Com va decidir arribar a l'Índia Colom?
9. Quins factors van fer possible el viatge de Colom?

**9 Relaciona cada personatge amb la definició correcta**

- |                        |  |
|------------------------|--|
| A. Erasme de Rotterdam | Iniciador de la reforma protestant                 |
| B. Guttemberg          | Pensador humanista, autor de l'Elogi de la follia. |
| C. Copèrnic            | Inventor del telescopi.                            |
| D. Galileu Galilei     | Inventor de la impremta de tipus mòbils.           |
| E. Martí Luter         | Científic que va elaborar la teoria heliocèntrica. |



**10. Ompli els buits. Fes ús dels següents termes: Cinquecento Itàlia, perspectiva, espai harmònic, Quattrocento, , mitologia clàssica.**

El Renaixement va sorgir a \_\_\_\_\_ i es va difondre posteriorment per la resta d'Europa. El desenvolupament del nou estil va tenir dues etapes : el \_\_\_\_\_ , que es va iniciar a Florència i el \_\_\_\_\_, quan la capital es va traslladar a Roma.

Els arquitectes van crear un \_\_\_\_\_ amb l'ús d'elements senzills i ordenats. Els pintors, al seu torn, van recrear la \_\_\_\_\_les escenes religioses i el retrat psicològic. Per a realitzar les seves composicions, van utilitzar les lleis de la \_\_\_\_\_, basades en la geometria i els avenços dels instruments òptics.